

لاحظ أن إجابة الامتحان في ٩ صفحات

صفحة (١)

ثقف ١٠١ المسار: (توحيد المسارات والديني)

مملكة البحرين

وزارة التربية والتعليم

إدارة الامتحانات / قسم الامتحانات

الإجابة النموذجية

الدرجة النهائية

٥٠

٥٠

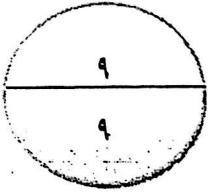
امتحان نهاية الفصل الدراسي الثاني للتعليم الثانوي للعام الدراسي ٢٠١٣/٢٠١٤ م

المسار: توحيد المسارات والديني

الزمن: ساعتان

اسم المقرر: الثقافة التجارية

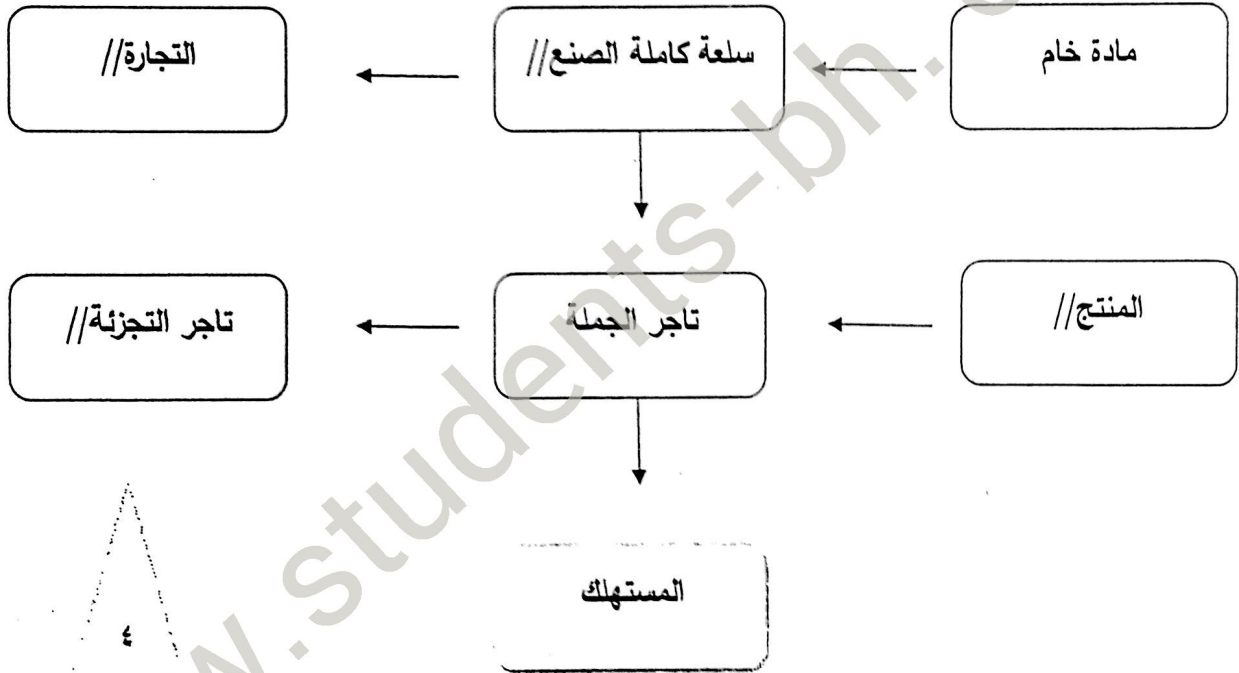
رمز المقرر: ثقف ١٠١



(كل نقطة بدرجة)

السؤال الأول:-

١- أكمل السلسلة الإنتاجية الآتية:



٢- صنف الأمثلة الآتية بحسب المصطلح الاقتصادي المناسب لها بكتابة رقم المثال في الخانة المناسبة لها

(كل نقطة بنصف درجة)

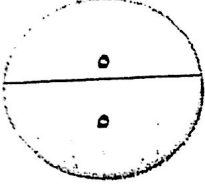
في جدول المصطلحات:

الأمثلة:

١- مكائن الثلج في مصنع عبدالله ناس.	٦- بنك الإسكان.
٢- خدمات رجال الشرطة.	٧- تلفزيون ماركة توشيبا.
٣- النقل والتخزين.	٨- مجمع السني سنتر.
٤- البائع الجوال.	٩- صيد الأسماك.
٥- جيان سوبر ماركت.	١٠- الزلازل.

المصطلحات:

الخدمات المباشرة	متاجر الأقسام	سلع	رأس المال	البنوك المتخصصة	المراكز التجارية	الخدمات المساعدة	من أخطار الممتلكات	تجارة التجزئة الصغيرة	الصناعات الاستخراجية
/٢	/٥	/٧	/١	/٦	/٨	/٣	/١٠	/٤	/٩



السؤال الثاني:-



رؤية البحرين الاقتصادية

إننا كمملكة نطمح في الانتقال من اقتصاد قائم على الثروة النفطية إلى اقتصاد منتج قادر على المنافسة عالمياً، ترسم الحكومة معالمه، ويتولى القطاع الخاص الرائد عجلة تنميته بشكل يوسع الطبقة الوسطى من المواطنين الذين ينعمون بمستويات معيشية عالية جراء معدلات الإنتاجية والوظائف ذات الأجور العالية. سوف يعتمد كل من مجتمعنا وحكومتنا مبادئ الاستدامة، والتنافسية، والعدالة، لكي تنهياً لكل مواطن بحريني السبل التي تمكنه من تجسيد قدراته الكاملة وعيش حياة كريمة وأمنة.

١- النص أعلاه يبين رؤية البحرين الاقتصادية ٢٠٣٠، ومن خلال دراستك المقرر فسر معنى مصطلح

الرؤية؟

الحلم الذي ترغب المؤسسة في أن يصبح حقيقة؛ وهذا يتطلب التخطيط المستمر. (أين نريد أن

نذهب) //

٢- استخرج من النص المبادئ التي تطمح لها رؤية البحرين الاقتصادية ٢٠٣٠؟

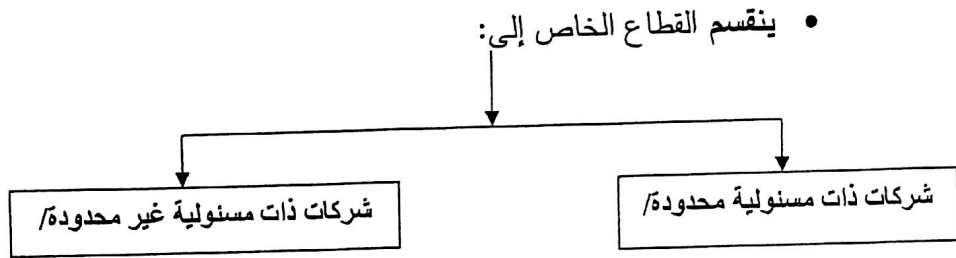
• الاستدامة. /

• التنافسية. /

• العدالة. /

٣- وردت العبارة الآتية في رؤية البحرين الاقتصادية "ويتولى القطاع الخاص الرائد عجلة تنميته"

- من هي الجهات التي تمثل القطاع الخاص في مملكة البحرين؟
- الشركات التي يمتلكها أفراد، إما بمفردهم أو في مجموعات. /
- ما الهدف الذي يسعى له معظم قطاع الأعمال الخاص؟
- تحقيق الربح. /



- أكتب مثال واحد للقطاع الخاص من واقع مملكة البحرين؟
- بتلكو. /

السؤال الثالث:-

أجب عن المطلوب في الأسئلة الآتية:

١- ماذا يترتب على:

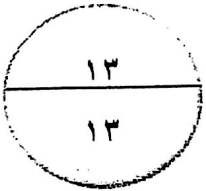
انضمام شريك إلى شركة التضامن.

كان مسؤولاً مع باقي الشركاء بالتضامن وفي جميع أمواله عن التزامات الشركة السابقة واللاحقة لانضمامه، وكل اتفاق بين الشركاء على خلاف ذلك لا يحتج به على الغير. //

٢- ما الهدف من:

تأسيس الشركات القابضة.

تملك أسهم في شركات مساهمة بحرينية أو أجنبية، وكذلك تملك أسهم أو حصص في شركات ذات مسؤولية محدودة بحرينية أو أجنبية، أو الاشتراك في هذه الشركات بنوعيتها، والعمل على إدارتها وإقراضها وكفالتها لدى الآخرين. //



٣- أكتب مذكرة مختصرة عن المشروعات الصغيرة مبينا ما يلي:

• تعريف المشروعات الصغيرة.

هي التي يملكها فرد واحد ويديرها، ويختلف المشروع الفردي عن الشركات في العمل الإداري ونوعية الإنتاج. //

• متطلبات إنشاء المشروعات الصغيرة.

١- تصريح لمزاولة العمل. //

٢- التسجيل ودفن الرسوم. //

٣- وجود رصيد مالي يسمح بمزاولة العمل التجاري المتوقع (كشف حساب مصرفي). //

• خصائص المشروعات الصغيرة.

١- التاجر الفرد هو المالك والمدير. //

٢- إدارة العمل. //

٣- التصرف بالأرباح. //

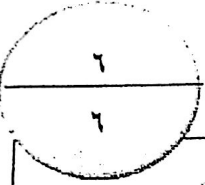
؛ قارن بين كل مما يأتي:



البيع بالتقسيط	البيع التأجيري	وجه المقارنة
عند المشتري/	عند البائع/	ملكية السلعة
شركة البحرين لتسهيلات/	الكبيسي للسيارات/	مثال
التجارة الخارجية	التجارة الداخلية	وجه المقارنة
الدولة ودول العالم/	الأفراد والمنشأة/	العمليات بين
خارج لطف حدود الدولة/	داخل لطف حدود الدولة/	حدودها

رئيسة لجنة القبول
١٠/١٠/٢٠١٠

السؤال الرابع :-



<p>P PRODUCT</p>	<p>P PRICE</p>
<p>P PLACE</p>	<p>P PROMOTION</p>

تمعن في الشكل السابق جيداً ثم أكمل الفراغات المطلوبة:

١- يوضح الرسم أربعة عناصر تسويقية هي:

• السلعة. //

• السعر. //

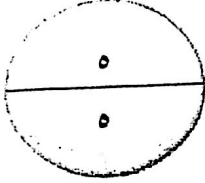
• الترويج. //

• المكان. //

٢- وتسمى العناصر التسويقية الأربعة بـ المزيج التسويقي ويرمز لها بـ 4Ps.

٣- تستعمل المنشأة العناصر التسويقية الأربعة السابقة في تحقيق أهدافها التسويقية.

٤- وتعتمد إعداد إستراتيجية التسويق على التربط الفعال بين جميع العناصر الأربعة.



السؤال الخامس:-

من خلال دراستك لموضوع التجارة الإلكترونية أحب عن الأسئلة الآتية:

١- عرف التجارة الإلكترونية.

تنفيذ الأنشطة التجارية المتعلقة بالسلع والخدمات وإدارتها بواسطة تحويل المعطيات عبر شبكة الإنترنت

أو الأنظمة التقنية المشابهة. //

٢- أكتب ثلاثة مزايا للتجارة الإلكترونية.

• انخفاض التكلفة. //

• الانتشار الواسع. //

• الخيارات الأكثر. //

• الفرصة الأكبر.

٣- هل توافق أو تعارض على العبارة الآتية، ولماذا؟

"يمثل البيع والشراء عبر الإنترنت فرصة لصغار المستثمرين".

أوافق/ : بأن يبدأوا مشاريعهم بأفكار جديدة من خلال الإنترنت، دون إنشاء مواقع البيع التقليدية

المكلفة. /

١- صحح ما تحته خط في العبارات الآتية:

م	العبارات	الكلمة الصحيحة
١	تحفيز الأفراد من العوامل التي أدت إلى نشأة إدارة الموارد البشرية.	أهداف/
٢	أنشئ ديوان الرقابة سنة ١٩٧٥م بهدف تطوير مستوى الخدمة ورفع الكفاية الإنتاجية وتحقيق العدالة في معاملة الموظفين في قطاع الحكومة.	الخدمة المدنية/
٣	الترقيات من المصادر الخارجية للبحث واستقطاب الأيدي العاملة المطلوبة للمنشأة.	الداخلية/
٤	التدريب وسيلة أساسية لإشباع رغبات العاملين المطلوبة للمنشأة.	الأجور والرواتب/
٥	الأحر أو المرتب هو العائد الذي يحصل عليه الفرد نتيجة للتميز في الأداء.	الحافز/
٦	جائزة الشيخ خليفة للتميز من الحوافز على مستوى الفرد.	جماعة العمل/

٢- اقرأ الحالة جيدًا ثم أجب عن الأسئلة الآتية:

تبلغ السيدة أطفاف من العمر ٥٠ عامًا، وتعمل مديرة إحدى الإدارات في شركة صناعية كبرى، وهي في هذه الوظيفة منذ ٧ سنوات، ومستوى إدارتها بصفة عامة يمكن أن يعتبر جيدًا، ما عدا السنتين الأخيرتين حيث هبط أدائها بشكل واضح، وحصلت على أجازات مرضية أكثر من أي فترة في الشركة. ولا ترى الإدارة العليا، ولا مدير الموارد البشرية في السيدة/ أطفاف من المهارات والصفات الشخصية ما يمكنها من الترقى إلى مصاف الإدارة العليا بالشركة، بالرغم من أن تاريخها الوظيفي مليء بالإنجازات.

١- باعتبارك مديرًا لإدارة الموارد البشرية بالشركة حدد ما هو الإجراء الذي يمكنك من خلاله التعرف على طريقة

أداء السيدة/أطفاف وسلوكها، وتصرفاتها أثناء العمل.

تقييم أداء السيدة/ أطفاف. //

٢- ماهي الفوائد التي سوف تعود على السيدة/ أطفاف من الإجراءات التي سوف تطبق عليها.

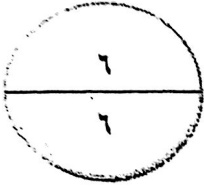
• التعرف بنواحي القصور في أدائها./

• التعرف على نواحي السلوك لديها. /

٣- ماهي الفوائد التي ستعود على الشركة.

• استفاد من نتائج التقييم في إعداد سياسات واقعية وجيدة للموارد البشرية. /

• ترشيد سياسات الإختيار والتعيين وغيرها. /



السؤال السابع:

البيانات الآتية استخرجت من سجلات مؤسسة العمر للتجارة العامة خلال شهر يناير ٢٠١٤م

(المبلغ بالدينار البحريني).

١٢٠	مصروف التأمين	٢٠٠٠	إيراد الخدمات
٦٠	مهمات مستخدمة	٢٠٠٠	إيراد الإيجار
١٤٥٠	مصروف الأجر	٤٠	مصاريف الكهرباء والماء

المطلوب:

١- إجمالي الإيرادات = ٢٠٠٠ + ٢٠٠٠ = ٤٠٠٠ دينار //

٢- إجمالي المصروفات = ٤٠ + ١٢٠ + ٦٠ + ١٤٥٠ = ١٦٧٠ دينار //

٣- صافي حساب الدخل = ٤٠٠٠ - // ١٦٧٠ = ٢٣٣٠ دينار //

٤- حدد ماذا حققت المؤسسة (ربح أو خسارة). ربح //

٥- متى تكون المؤسسة في حالة خسارة= في حالة إجمالي المصروفات أكبر من إجمالي الإيرادات. //

انتهت الإجابة