

مملكة البحرين

وزارة التربية والتعليم

إدارة الامتحانات / قسم الامتحانات

امتحان نهاية الفصل الدراسي الأول للتعليم الثانوي للعام الدراسي ٢٠١٤/٢٠١٥م

المسار: توحيد المسارات

الزمن : ساعة ونصف

اسم المقرر : مبادئ الاقتصاد

رمز المقرر : قصد ٢١١

أ عبد الحميد حسين محمد السعيد
المعلم الأول للمواد التجارية

(١٠ درجات)

السؤال الأول:

- اكتب المصطلح أو التعريف المناسب إلى الآتي:

الرقم	المصطلح	التعريف
١		إجمالي المبالغ المدفوعة مقابل اقتراض مبلغ من المال خلال فترة زمنية محددة.
٢	الأرض	
٣		هو الطلب على سلع عديدة تشبه إلى حد ما رغبة إنسانية معينة، ومن ثم فإن أي سلعة منها لا بد أن تكون بديلة للأخرى في تحقيق الإشباع المطلوب.
٤	النظام الاقتصادي الرأسمالي	
٥		هو الكمية التي يعرضها المنتجون من سلعة معينة للبيع في الأسواق عند سعر معين، وفي فترة زمنية معينة.
٦	القيمة	
٧		عملية مركبة يتم فيها إعداد المواد الأولية المتوافرة وتحويلها إلى منتجات ذات منفعة بهدف إشباع حاجات غير مشبعة في المجتمع.
٨	مرونة الطلب	
٩		العمليات التي ينتج عنها تخزين السلعة في مكان معين بهدف إضافة منفعة للسلعة لا تتحقق إلا من خلال التخزين لفترة محدودة.
١٠	المنفعة الكلية	

السؤال الثاني:

(٩ درجات)

أ- ضع علامة (✓) أمام العبارة الصحيحة وعلامة (×) أمام العبارة الخاطئة مع ذكر السبب في حالة العبارة الخاطئة.

الرقم	العلامة	العبارات
١		الملكية العامة لعناصر الإنتاج من أهم خصائص النظام الاقتصادي الاشتراكي.
٢		تعتبر البطالة الموسمية من أخطر أنواع البطالة لأنها الوجه الآخر لسوء الإدارة وانخفاض مستوى الإنتاج والإنتاجية.
٣		كلما كانت السلعة قابلة للتخزين فإن العرض يكون غير مرن.
٤		إذا كانت السلعة ضرورية للمستهلك يقل الطلب عليها.
٥		الكساد العظيم هي أزمة اقتصادية حدثت عام ١٨٠٠م
٦		يركز الاقتصاد الجزئي على دراسة سلوك المنتج والمستهلك وسعر السلعة أو الخدمة ونظرية الثمن.

ب- علل الآتي:

١- ظهور البطالة الدورية.

٢- لا تحدد الدولة سعر السلع والخدمات في ظل النظام الاقتصادي الرأسمالي.

٣- تراجع الحافز الشخصي في ظل النظام الاقتصادي الاشتراكي.

٤- من الممكن انتقال منحني إمكانات الإنتاج بكامله إلى اليمين.

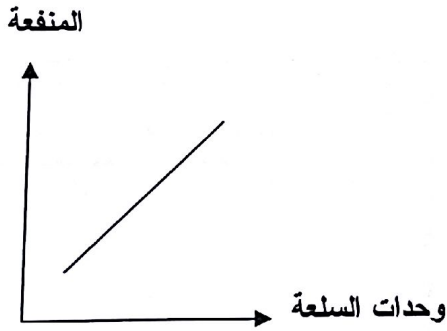
أ عبد الحميد حسين محمد السعيد
المعلم الأول للمواد التجارية

أ- اذكر مثال واحد فقط إلى الآتي:

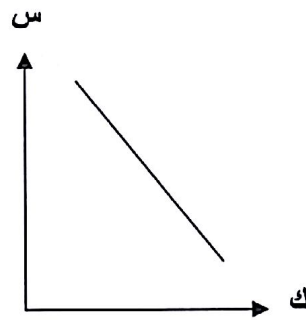
١	سلعة إنتاجية.
٢	رأس المال الثابت.
٣	رأس المال المتداول.
٤	سلعة استهلاكية معمرة.
٥	سلعة استهلاكية وحيدة الاستعمال.
٦	سلعة حرة.
٧	سلعة مكمل (متلازمة).
٨	سلعة كمالية.

ب- انظر إلى الأشكال الآتية، ثم اكتب اسم كل شكل.

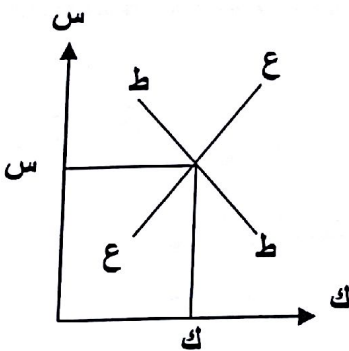
شكل رقم (٢)



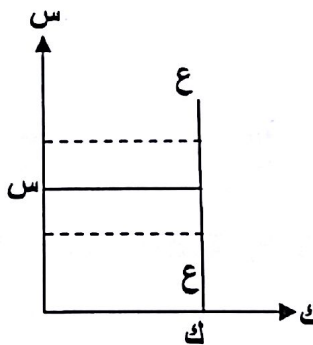
شكل رقم (١)



شكل رقم (٤)



شكل رقم (٣)



السؤال الرابع:

(١١ درجة)

أ- أجب عن الآتي:

- افترض أن:

- المستهلك سوف يستهلك (١٠) وحدات من السلعة.
 - الوحدة التي تحقق التوازن هي الوحدة الخامسة.
 - تتناقص المنفعة الحدية بمقدار دينار واحد لكل وحدة يستهلكها بعد الوحدة الأولى.
- والآن أكمل بيانات الجدول الآتي، مستعيناً بالبيانات أعلاه.

أرقام وحدات السلعة	١	٢	٣	٤	٥	٦	٧	٨	٩	١٠
سعر السلعة										
المنفعة الحدية (بالدينار)								صفر		
المنفعة الكلية (بالدينار)										

ب- الجدول الآتي يوضح الوحدات المستهلكة من السلعة والمنفعة الحدية، ارسم منحنى المنفعة الحدية بشكل دقيق.

وحدات السلعة	المنفعة الحدية
١	٣
٢	٢
٣	١
٤	صفر
٥	١-
٦	٢-

ج- اشترى مستهلك أربع تفاحات بهدف الحصول على منفعتها، وبعد تناوله التفاحات الأربع سئل الأسئلة الآتية:

١- من خلال استهلاكك التفاحات الأربع، هل تشعر بتغير المنفعة من تفاحة إلى أخرى؟ ولماذا؟

٢- ماذا تسمى الوحدة الأخيرة في المثال السابق:

٣- ماذا تسمى المنفعة الناشئة عنها:

السؤال الخامس:

(٥ درجات)

- أجب عن الآتي:

١- عرف التضخم؟ ثم اذكر أسباب التضخم؟

التضخم:

أسباب التضخم:

٢- خصائص النظام الاقتصادي المختلط؟

السؤال السادس:

(٧ درجات)

أ- لدى أحمد ٣ دنانير ويرغب في شراء ٣ كيلو من الليمون، علمًا بأن سعر الليمون قبل يوم واحد دينار واحد، ولما جاء في اليوم التالي لشراء ٣ كيلو من الليمون تفاجأ أحمد بالسعر الجديد حيث وصل سعر الكيلو إلى دينار ونص.

من خلال الحالة السابقة أجب عن الآتي:

١- كم يبلغ دخل أحمد النقدي:

٢- في حالة قرر أحمد شراء ٣ كيلو من الليمون بسعر دينار ونصف للكيلو، فهل يحتاج زيادة دخله النقدي؟ وكم تبلغ الزيادة؟

٣- في حالة عدم قدرة أحمد على زيادة دخله النقدي، فكم سوف يكون دخله الحقيقي بعد ما وصل سعر كيلو الليمون إلى دينار ونص.

أ عبد الحميد حسين محمد السعيد
المعلم الأول للمواد التجارية

ب- إذا ارتفع سعر سلعة ما من ١٠ دنانير إلى ٣٠ دينار، ونتج عن ذلك انخفاض الكمية المطلوبة من ٢٠ وحدة إلى ١٠ وحدات.

١- احسب مرونة الطلب السعرية؟

٢- نوع منحنى الطلب: ----- نوع السلعة: -----

انتهت الأسئلة

أ عيد الحميد حسين محمد السعيد
المعلم الأول للمواد التجارية