

امتحان الدور الثاني للتعليم الثانوي للعام الدراسي 2018/2017 م

المسار: توحيد المسارات

اسم المقرر: مبادئ الاقتصاد

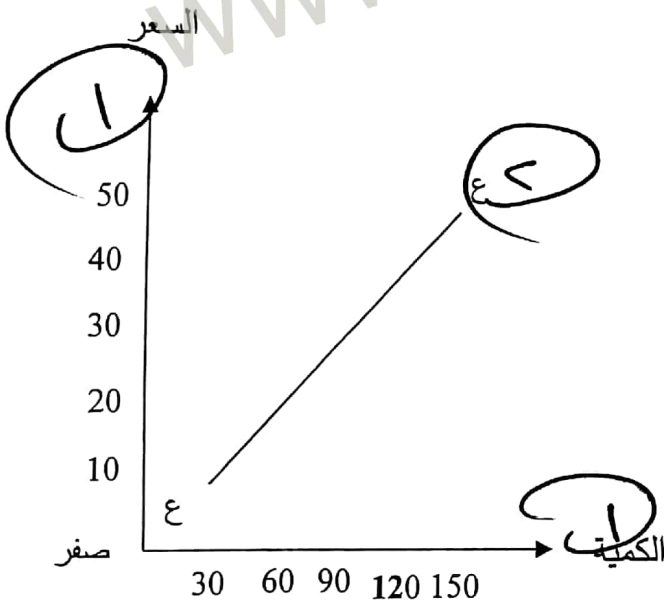
الزمن: ساعة ونصف

رمز المقرر: قصد 211

(7 درجات)

السؤال الأول:

انظر إلى الجدول الآتي ثم أجب عن الأسئلة التي تليه: (4 درجات)



الكمية المعروضة (بالطن)	السعر بالدينار
30	10
60	20
90	30
120	40
150	50

المطلوب:

1- ارسم منحنى العرض.

2- اذكر قانون العرض. (درجة ونصف)

كلما ارتفع سعر السلعة أو الخدمة المنتجة في السوق زاد المعروض منها والعكس صحيح.

3- أكمل الآتي: (درجة ونصف)

نلاحظ أن منحنى العرض يرتفع من الأسفل إلى الأعلى جهة اليمين مما يؤكد العلاقة بين السعر والكمية المعروضة هي علاقة طردية.

السؤال الثاني:

(10 درجات)

أ- علل الآتي: (3 × 2 = 6 درجات)

1- تراجع الحافز الشخصي في ظل النظام الاقتصادي الاشتراكي.

نتيجة لتراخي بقية عناصر الإنتاج كمشرفي العمل والمدراء ومن في حكمهم.

2- ظهور البطالة الاحتكاكية (الفنية).

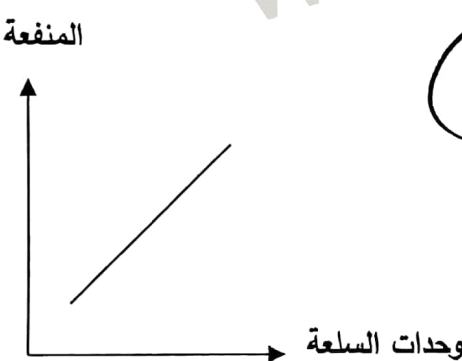
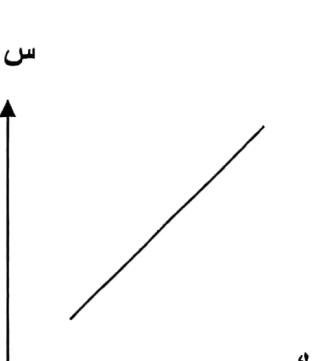
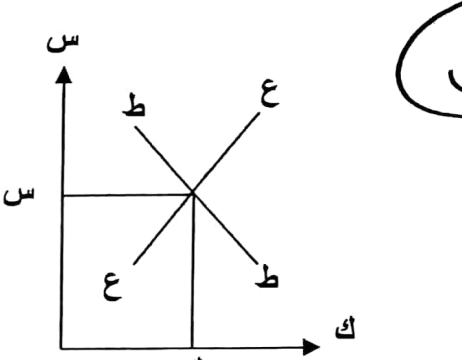
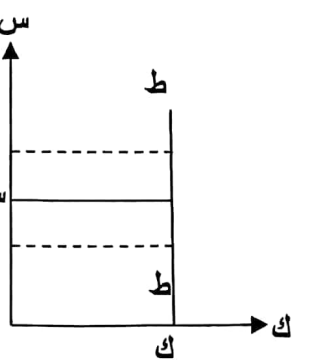
بسبب نقص المعلومات لدى الباحثين عن عمل ولدى أصحاب الأعمال الذين تتوافر لديه فرص العمل.

3- يكون الطلب على بعض السلع غير مرن، خصوصًا المواد الغذائية.

لأن هذه السلع مهمة وضرورية لدى المستهلك، لذلك لا يستطيع الاستغناء عنها بشكل نهائي، وإنه

بإمكان المستهلك التقليل منها بشكل بسيط في حال ارتفاع أسعارها.

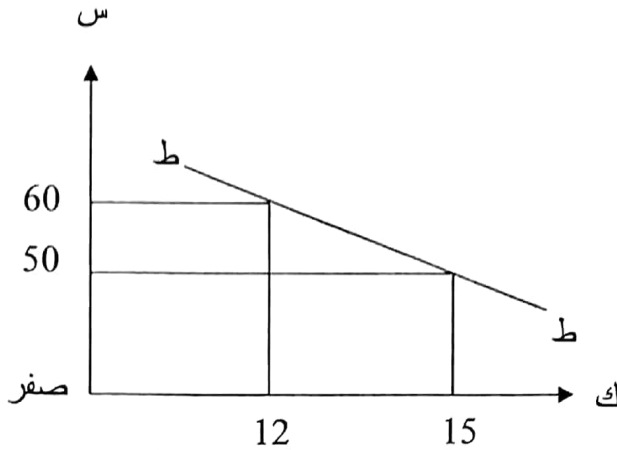
ب- أنظر إلى الأشكال الآتية، ثم أكتب نوع المنحنى. (4 درجات)

<p>شكل رقم (2)</p>  <p>منحنى المنفعة الكلية</p>	<p>شكل رقم (1)</p>  <p>منحنى العرض</p>
<p>شكل رقم (4)</p>  <p>توازن السوق</p>	<p>شكل رقم (3)</p>  <p>منحنى طلب عديم المرونة</p>

السؤال الثالث:

(6 درجات)

أ- أنظر إلى الشكل الآتي، ثم أجب عن الأسئلة التي تليه.



1- أحسب مرونة الطلب السعرية عند تغير السعر من (60) دينار إلى (50) دينار. (3 درجات)

$$\text{مرونة الطلب: } \Delta \text{ ك} \times \text{س} = (3) \times (60) = 180 \text{ و.و.}$$

$$\Delta \text{ س ك} = (10) (12) = 120$$

2- حدد نوع منحنى الطلب: مرن. (نص درجة)

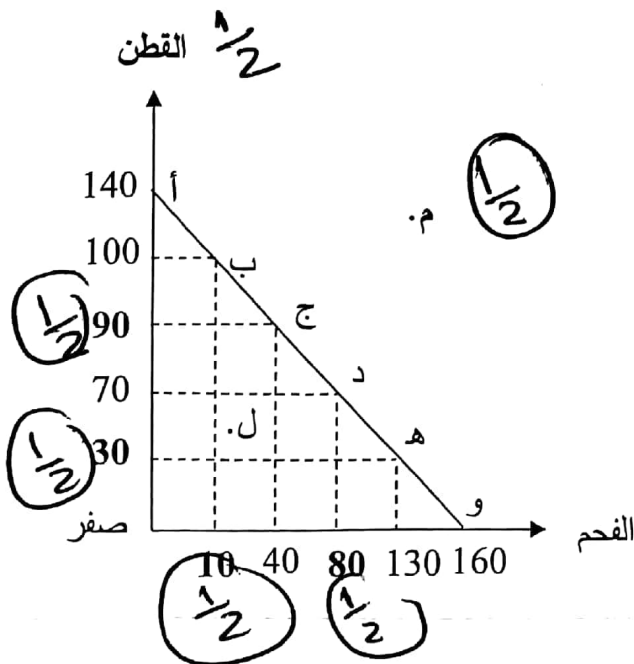
و نوع السلعة: كمالية. (نص درجة)

ب- أكمل الرسم من خلال المعطيات الآتية، ثم ضع النقطة (م) في مكانها المناسب. (3 درجات)

❖ النقطة (م) تعني فوق مستوى إمكانات الدولة.

❖ إذا قررت الدولة تغيير الإنتاج في سلعة القطن من (40) طن إلى (130) طن، فإن مقدار الكمية المضحية بها من سلعة القطن هي 60 طن.

❖ إذا قررت الدولة تغيير الإنتاج في سلعة القطن من (70) طن إلى 100 طن، فإن مقدار الكمية المضحية بها من سلعة القطن هي 70 طن.



يراعي الذراع الآدمية في القطن (المرفق 60)

يراعي الذراع الآدمية في الفحم (المرفق 70)

(12 درجة)

السؤال الرابع:

أ- أكتب المصطلح أو التعريف المناسب إلى الآتي: (6 = 1 × 6 درجات)

الرقم	المصطلح	العبارات
1	تكلفة الفرصة البديلة	التنازل عن إنتاج كمية من سلعة ما، في سبيل الحصول على كمية إضافية من سلعة أخرى.
2	البطالة الموسمية	نوع من البطالة المؤقتة تحدث في بعض القطاعات الاقتصادية (كالزراعة والسياحة) بسبب الطبيعة الموسمية للنشاط الاقتصادي ونتيجة للظروف والتقلبات المناخية.
3	الدخل القومي	قيمة ما أنتج من سلع وخدمات خلال فترة زمنية معينة مقومًا بالأسعار الجارية (سعر السوق).
4	الإنتاج	عملية مركبة يتم فيها إعداد المواد الأولية المتوفرة وتحويلها إلى منتجات ذات منفعة بهدف إشباع حاجات غير مشبعة في المجتمع.
5	السلع الاستهلاكية	هي السلع التي تستهلك مباشرة كالملابس والغذاء.
6	المشكلة الاقتصادية	صعوبة تحقيق التناسب والتوازن بين الموارد الاقتصادية المحدودة والحاجات الإنسانية المتعددة والمتفاوتة في أهميتها النسبية.

ب- صحح العبارات الآتية: (لن يقبل الإثبات أو النفي) (6 = 1 × 6 درجات)

الرقم	العبارات	التصحيح
1	السلع الحرة هي التي نحصل عليها مقابل ثمن.	السلع الاقتصادية - بدون مقابل.
2	من الممكن أن ينتقل منحنى إمكانات الإنتاج إلى جهة اليمين بسبب زيادة الأسعار.	بسبب زيادة عناصر الإنتاج والتقدم التقني.
3	درجة مرونة "طلب لانهائي المرونة" تتمثل في السلع الضرورية.	تتمثل في المنافسة الكاملة - أو مرونة الطلب أصغر من واحد.
4	الربح من وجهة النظر الاقتصادية الجزء المتبقي من إيرادات الوحدة يضاف له تكاليف الإنتاج.	يطرح منه
5	مرونة الطلب هي درجة استجابة الكمية المعروضة للتغير في السعر.	مرونة العرض / أو الكمية المطلوبة
6	إحدى خطوات المشكلة الاقتصادية هي متى ننتج.	ماذا، كيف، لمن.

السؤال الخامس:

(10 درجات)

أ- قارن بين الآتي:

1- النظام الاقتصادي الرأسمالي والنظام الاقتصادي الاشتراكي. ($6 \times 0.5 = 3$ درجات)

وجه المقارنة	النظام الاقتصادي الرأسمالي	النظام الاقتصادي الاشتراكي
ملكية عوامل الإنتاج	الأفراد	ملكية عامة او ملكية الدولة
تحديد أسعار السلع والخدمات	جهاز الثمن أو قوى العرض والطلب	الدولة
الهدف من الإنتاج	تحقيق الربح	إشباع الحاجات الجماعية من السلع والخدمات

2- رأس المال والتنظيم. ($4 \times 0.5 = 2$ درجتين)

وجه المقارنة	رأس المال	التنظيم
العائد	الفائدة	الربح
مثال	الأرصدة النقدية، المواد الأولية، السلع الوسيطة، الآلات، المعدات.	مدير المشروع - أو المسؤول

ب- أكمل بيانات الجدول الآتي من خلال المعطيات الآتية، ثم أجب عن الأسئلة التي تليه.

❖ سعر الوحدة من السلعة هو 7 دنانير.

❖ الوحدة التي تحقق التوازن هي الوحدة الثامنة.

❖ تتناقص المنفعة الحدية بمقدار دينار واحد لكل وحدة يستهلكها بعد الوحدة الأولى.

مراعى الأثر المترتب

(4 درجات)

أرقام وحدات السلعة	1	2	3	4	5	6	7	8	9	10
سعر السلعة (بالدينار)	7	7	7	7	7	7	7	7	7	7
المنفعة الحدية (بالدينار)	14	13	12	11	10	9	8	7	6	5
المنفعة الكلية (بالدينار)	14	27	39	50	60	69	77	84	90	95

1- كم تساوي المنفعة الحدية والمنفعة الكلية للفرد قبل استهلاك الوحدة الأولى؟ صفر. (نص درجة)

2- بفرض تغير سعر الوحدة إلى 10 دنانير، ماهي الوحدة التي تحقق التوازن؟ الوحدة الخامسة. (نص درجة)

(5 درجات)

السؤال السادس:

اقرأ الحالتين الآتيتين جيدا، ثم أجب عن الأسئلة التي تليهما.

الحالة الأولى

ياسر رمضان رب أسرة مكونة من 6 أشخاص، يحصل على راتبًا شهريًا قدره (650 د.ب.)، وقد خصص هذا الشهر جزء من راتبه لشراء بعض السلع الكمالية، ولما توجه إلى السوق تفاجئ بارتفاع الأسعار بصورة سريعة ومتصاعدة خلال فترة زمنية قصيرة، لذلك لن يتمكن من شراء هذه السلع بنفس الكمية التي يشتريها سابقًا، بسبب انخفاض القوة الشرائية للنقود نتيجة لارتفاع الأسعار.

1- ماهي المشكلة التي واجهها ياسر رمضان؟ (درجة)

التضخم / ارتفاع الأسعار

2- كيف كان ارتفاع سعر السلع من حيث السرعة والزمن؟ (درجة)

ارتفاع الأسعار بصورة سريعة ومتصاعدة خلال فترة زمنية قصيرة.

الحالة الثانية.

لدى سلمان 6 د.ب، ويرغب في شراء 3 كيلو من الفراولة، علمًا بأن سعر كيلو الفراولة قبل يومين بدينارين، ولما جاء إلى السوق لشراء 3 كيلو من الفراولة تفاجأ بالسعر الجديد حيث وصل سعر الكيلو إلى 3 دنانير.

1- كم يبلغ دخل سلمان النقدي. (درجة)

6 د.ب.

2- في حالة إذا قرر سلمان شراء 3 كيلو من الفراولة بسعر 3 دنانير للكيلو الواحد، فهل يحتاج إلى زيادة دخله النقدي؟ وكم تبلغ الزيادة؟ (درجة)

نعم - 3 دينار.

3- كم كيلو من الفراولة يستطيع سلمان شراؤه بواسطة السعر القديم؟ (درجة)

3 كيلو.