



الإجابة النموذجية

الإجابة النموذجية
المعدة من قبل
إدارة الامتحانات

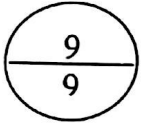
امتحان نهاية الفصل الدراسي الأول للتعليم الثانوي للعام الدراسي 2016/2015م

المسار: توحيد المسارات

الزمن: ساعة ونصف

اسم المقرر: مبادئ الاقتصاد

رمز المقرر: قصد 211 تراعى الإجابات الآتية



السؤال الأول:

(أ) ضع دائرة حول رقم الإجابة الصحيحة فقط :

1- اقتصاد يعتمد على أساسيات علم الاقتصاد وأصوله في مواجهة القضايا الاقتصادية التي تواجه المجتمع هو:

ج- الاقتصاد التطبيقي ①

أ و ب و ج

أ- الاقتصاد الكلي

د - الاقتصاد الاجتماعي

ب- الاقتصاد الجزئي

2- من أسباب المشكلة الاقتصادية في العالم:

ج- الاختيار والمفاضلة

أ- ندرة الموارد

د - كل ما ذكر صحيح ①

ب- تعدد الحاجات

3- عندما يُستخرج من برميل النفط الخام (بنزين 50%، ديزل 20%، زيوت 10%، غاز 20%) تعتبر منفعة:

ج- زمانية

أ- شكلية ①

د - تحويلية

ب- مكانية

4- نظام اقتصادي تمتلك فيه الدولة غالبية عوامل الإنتاج والثروة في المجتمع وتدار وفقا لخطة قومية شاملة:

ج- الاقتصاد المختلط

أ- الاقتصاد الرأسمالي

د- الاقتصاد الإسلامي

ب- الاقتصاد الاشتراكي ①

Commbh.com

5- درجة "مرونة الطلب" عند ثبات الكمية المطلوبة لسلعة ما مع تغير السعر صعودا وهبوطا كلوحة الموناليزا تساوي:

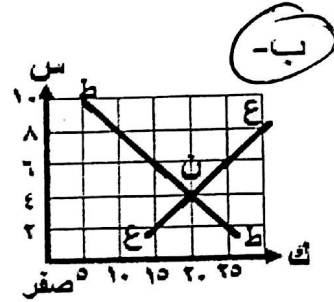
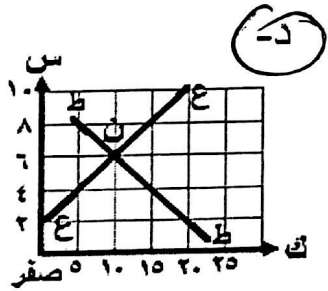
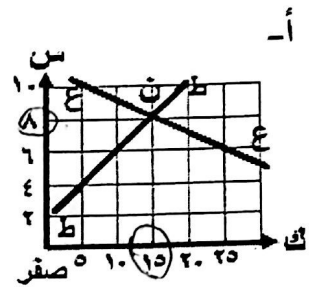
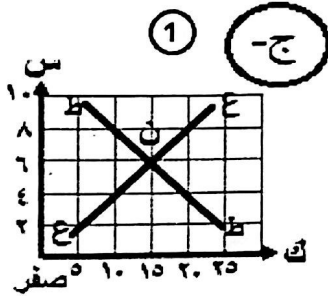
ج- أكبر من واحد

أ- صفر ①

د - أقل من واحد

ب- واحد

6- شكل المنحنى الذي يمثل نقطة توازن السوق عند النقطة (ن) هو:



تقبل اجيباً
ب- أو د

ب) صنف إجراءات معالجات التضخم في الجدول أدناه مستعينا بالتصنيفات التالية:

(سياسة مالية - أدوات اقتصادية كمية - أدوات اقتصادية نوعية - تحكم ومراقبة مباشرة)

م	المعالجة	التصنيف
1	توعية القيادات المصرفية وإقناعها بالسياسة العامة للدولة	أدوات اقتصادية نوعية ①/2
2	فرض الضرائب على السلع الكمالية	سياسة مالية ①/2
3	قيام البنوك المركزية ببيع الأوراق المالية في السوق	أدوات اقتصادية كمية ①/2
4	تسهيل دخول السلع المستوردة وخاصة الضرورية منها	تحكم ومراقبة مباشرة ①/2
5	زيادة معدلات الفائدة على الدين العام	سياسة مالية ①/2
6	رفع البنك المركزي نسبة الاحتياطي القانوني للودائع المصرفية	أدوات اقتصادية كمية ①/2
7	التحكم في سعر السلع وتحديد أثمانها النهائية	تحكم ومراقبة مباشرة

N

(أ) تُعرف النظم الاقتصادية بأنها مجموعة القواعد والمؤسسات والمنظمات التي يختارها المجتمع كأسلوب أو وسيلة لحل المشكلة الاقتصادية.

1- ما هي أبرز المشكلات الاقتصادية التي واجهت العالم؟... (1) ..الكساد العظيم أو الأزمة المالية العالمية .

2- عرف المشكلة الاقتصادية :صعوبة تحقيق التاسب والتوازن بين الموارد الاقتصادية المحدودة

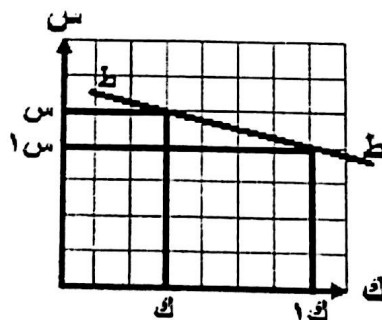
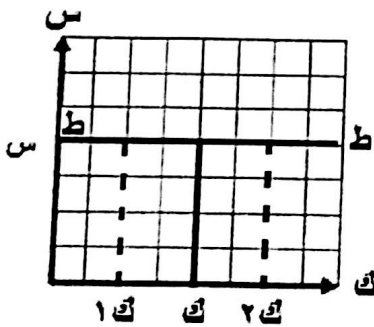
والحاجات الإنسانية المتعددة . (2) أو ندرة الموارد الاقتصادية .

3- قارن بين النظم الاقتصادية من حيث العناصر التالية:

النظام الاقتصادي			عناصر المقارنة
النظام المختلط	النظام الاشتراكي	النظام الرأسمالي	
تملك الدولة الصناعات المهمة و البقية ملكية مشتركة أو خاصة	ملكية عامة أو ملكية الدولة (1/2)	حرية تملك الافراد (1/2)	ملكية عوامل الإنتاج
جهاز الثمن/قوى الطلب والعرض (1/2)	تحدد سياسة الدولة أسعار السلع والخدمات	جهاز الثمن/قوى الطلب والعرض (1/2)	تحديد سعر السلع والخدمات
انخفاض الأرباح	ترجع الحافز الشخصي (1/2)	تحقيق أعلى الأرباح (1/2)	حافز الأرباح

(ب) عرف مرونة الطلب وأكتب نوع منحني الطلب ودرجة المرونة أسفل الأشكال التالية:

* مرونة الطلب : هي درجة تأثر الكمية المطلوبة من سلعة ما نتيجة تغيير السعر .. (2)



* نوع المنحني : طلب لا نهائي المرونة .. (1/2)

* نوع المنحني : طلب مرن (1/2)

* درجة المرونة: ما لا نهاية أو ∞ (1/2)

* درجة المرونة: أكبر من واحد صحيح . (1/2)

قصد 211 المسار: (توحيد المسارات)

صفحة (4)

لاحظ أن إجابة الامتحان في 6 صفحات

تعدل على نموذج الإجابة بلهجة درية

السؤال الثالث:

اقرأ الحالة التالية جيداً، ثم أجب عن الأسئلة التي تليها:

10
10

في سؤال الثالث (نقطة ٣)
١١/١٢/٢٠١٦

"نظراً لتدنكس عدد كبير من العمال في إحدى المؤسسات، أنهيت خدمة سليمان يوسف المتزوج حديثاً، وقد نصحه صديقه عندما كان يبحث عن عمل التسجيل في مشروع "نظام التأمين ضد التعطل"، وبعد تلقيه التدريب والتأهيل المناسب في "المشروع الوطني للتوظيف" إلتحق بوظيفة مناسبة وحصل على أول أجر شهري قدره 400 دينار بحريني، أنفق منه 250 د.ب في شراء عدد مكيفين تبريد والباقي مدد به القسط السنوي لخدمة تأمين سيارته".

1- عرف العاطل عن العمل : هو الذي يكون فوق سن معين بلا عمل وهو قادر على العمل وراغب فيه

ويبحث عنه ولا يجده) ... (2)

أو الإصطكاكية أو الهيكلية

2- ما نوع البطالة التي تعرض لها سليمان يوسف : البطالة المقنعة أو المستترة. (1) درية

3- أذكر شرطاً من الشروط الأساسية للبطالة التي توافرت في سليمان يوسف :... باحث عن العمل/القدرة على العمل . (1) درية

4- ما هي المشاكل التي تتوقع قد واجهت سليمان يوسف عندما كان عاطلاً عن العمل .. اجتماعية أو عدم

استقرار اسري أو العوز الاجتماعي (1) درية

٢/١٩

(1/2)

(1/2)

(1/2)

(1/2)

5- أكتب صيغة معادلة البطالة : .. عدد العاطلين عن العمل / مجموعة القوى العاملة X 100 ...

6- كيف استفاد سليمان يوسف من المشاريع التي تقدمها مملكة البحرين للحد من البطالة؟..... التسجيل في

المشروع الوطني للتوظيف والتدريب . (1)

7- حدد مقدار كل من الأجر النقدي والأجر الحقيقي :

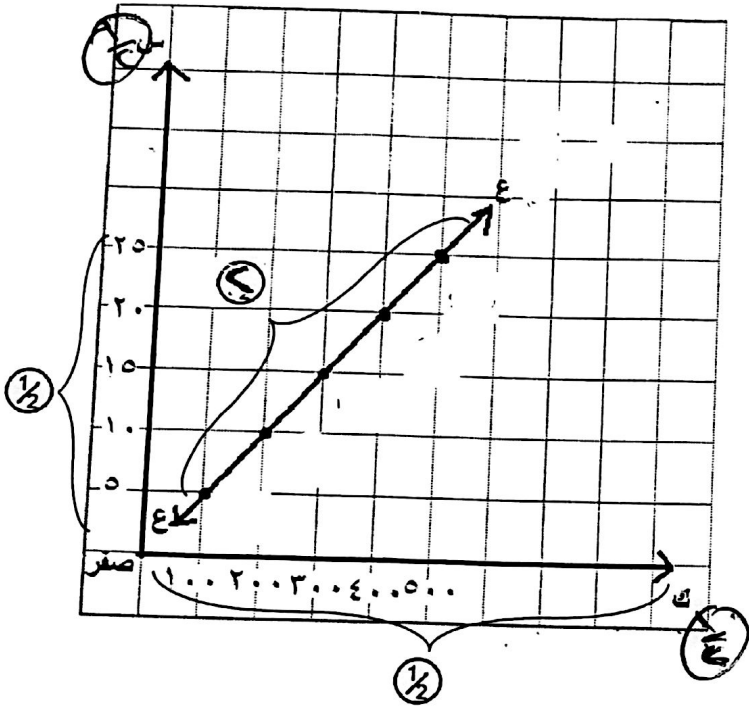
• الأجر النقدي = 400 د.ب (1)

• الأجر الحقيقي = ... مكيفين تبريد و خدمة تأمين السيارة... (1) ...

Commbh.com

السؤال الرابع:

في ما يلي جدول يبين العلاقة بين الكمية المعروضة والسعر لسلعة ما خلال فترة زمنية محددة في السوق :



السعر بالدينار	الكمية المعروضة
5	100
10	200
15	300
20	400
25	500

1- ارسم منحى العرض .

2- حدد نوع العلاقة بين السعر والكمية المعروضة : ①... علاقة طردية .

3- ماهي العوامل المؤثرة في العرض ؟ يكفي بثلاثة عناصر فقط . ص 120-122

- ①... تكلفة الإنتاج / تغيرات أسعار السلع والخدمات مستقبلا / تغير أسعار السلع الأخرى
- ①... التطور التكنولوجي / التقلبات الجوية خلال الإنتاج
- ①... السياسة المالية / التغييرات الطارئة في الإنتاج

4- احسب درجة مرونة العرض عند تغير السعر من 15 دينار إلى 20 دينار (المظلل بالجدول أعلاه)، وحدد نوع المرونة.

$$\text{مرونة العرض} = \frac{\frac{1}{2}}{300} \times \frac{1}{5} = 1 \frac{1}{2}$$

• نوع المرونة : متكافئة ④

قصد 211 المسار: (توحيد المسارات) صفحة (6) لاحظ أن إجابة الامتحان في 6 صفحات

تمتلك على نموذج الحاجة بإضافة درجة في

السؤال الخامس (نصته)

10
10

السؤال الخامس:

أكمل الجدول ادناه ثم أجب عن الأسئلة التي تليه :

عدد الوحدات	المنفعة الحدية	المنفعة الكلية
1	15	15
2	12	27
3	9	36
4	6	42
5	3	45
6	0	45
7	3-	42
8	6-	36

1- عرف المنفعة الحدية: هي المنفعة الناشئة عن استهلاك الوحدة الأخيرة من السلعة

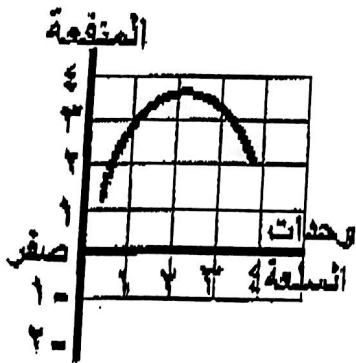
2- ماهي الوحدة التي تحقق التوازن للمستهلك إذا علمت بأن سعر الوحدة 6 دينار

3- تُسمى الوحدة 6 بالوحدة الحدية أو الأخيرة. وإذا استهلك الوحدة 7 تصبح منفعتها الحدية سالبة -3.

4- بفرض تغير السعر وأصبحت المنفعة الحدية التي تحقق التوازن هي الوحدة الثالثة.

فعد أي سعر للوحدة يتحقق هذا التوازن؟ 9 1

5- حدد نوع المنحنى ونوع علاقة المنفعة بالوحدات المستهلكة في الشكل التالي:



• نوع المنحنى: المنفعة الكلية نص

• نوع علاقة المنفعة بالوحدات المستهلكة: طردية نص

أو (عكسية)

انتهت الإجابة

Commbh.com