

عربي

قصد ٢١١ السبار: (توحيد المسارات)

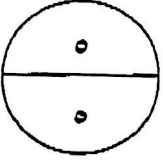
صفحة (١)

لاحظ أن إجابة الامتحان في ٣ صفحات

السؤال الأول:

الإجابة الصونجية

٢٠
٢٠



أولاً : ضع دائرة حول رمز الإجابة الصحيحة فقط في ما يأتي:

١. يعتبر علم الاقتصاد من العلوم الإنسانية حيث قُسم إلى قسمين رئيسين أحدهما:

- أ- الاقتصاد الجزئي
ب- النظرية الاقتصادية (١/٢)
ج- اقتصاديات الزراعة
د- الاقتصاد الكلي

٢. تمثل النقطة (ن) التي تقع تحت منحنى امكانيات الإنتاج:

- أ- نقطة يصعب الوصول إليها
ب- تشغيل كامل لعناصر الإنتاج
ج- عناصر إنتاج معطلة (١/٢)
د- تكلفة الفرصة البديلة



٣- من السياسات المالية التي قد تلجأ إليها الدولة لعلاج التضخم:

- أ- خفض السيولة النقدية
ب- زيادة معدلات الفائدة على الدين العام
ج- فرض الضرائب على السلع الكمالية
د- كل ما ذكر صحيح (١/٢)

٤- يعبر عن ثمن المبالغ النقدية التي نحصل عليها عندما نعمل في مقابل الجهد الذي بذل في العملية الانتاجية خلال فترة زمنية معينة بـ:

- أ- الأجر (١/٢)
ب- الأجر الحقيقي
ج- الأجر النقدي
د- الأجر التعاقدية

٥- يحصل عنصر التنظيم على الربح الذي هو بمثابة:

- أ- الفرق بين الإيرادات والتكاليف (١/٢)
ب- نظير شراء عناصر الإنتاج
ج- عائد عنصر الأرض
د- ثمن العمل في العملية الانتاجية


ثانياً: علل لما يلي:

١. من معالجات السياسة النقدية للتضخم أن تقوم البنوك المركزية ببيع الأوراق المالية في السوق:

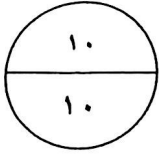
سحب السيولة المتداولة والتحكم فيها (١)

٢. حدوث البطالة الفنية في المجتمع.

(١/٢) نقص المعلومات لدى الباحثين عن العمل وأصحاب الأعمال



السؤال الثاني:



أ) أظهر المسح الإحصائي في إحدى الدول البيانات التالية:

- مجموع قوى العمل في المجتمع تبلغ ٦٠٠ ألف عامل.
- العاطلون عن العمل ٢٥٠ ألف عاطل فقط.

١. احسب معدل البطالة:

$$\frac{250}{600} \times 100 = 41.6\% \text{ أو } 0.41$$

(كتابة المعادلة بدون تعويض نصف الدرجة)

٢. أذكر مشكلة اقتصادية وأخرى اجتماعية سوف يتحملها المجتمع نتيجة البطالة. ص ٣٨

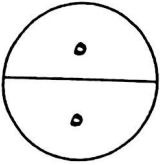
مشكلة اجتماعية	مشكلة اقتصادية
① عدم الاستقرار الأسري	① انخفاض الناتج الإجمالي المحلي

٣. اقترح حلاً مناسبة لمعالجة البطالة في المدى القصير أو المتوسط من وجهة نظرك.

تدريب القوى العاملة. ① ص ٣٧

ب) اكتب التعريف أو المصطلح المناسب لما يأتي:

م	المصطلح	التعريف
١	المنفعة	① قدرة السلعة على اشباع الحاجة لدى الفرد.
٢	بطالة دورية ①	فقد العامل عمله بسبب حالة ركود النشاط الاقتصادي نتيجة تقلبات الدورات الاقتصادية.
٣	التضخم التدريجي ①	ارتفاع الاسعار خلال فترة زمنية طويلة بحيث يبدأ اثره على المستهلك بالتصاعد مع الزمن.
٤	رأس المال الثابت	الأصول الثابتة أو الآلات والمعدات المعمرة و المباني أو والتي يمكن استخدامها عدة مرات في الإنتاج. ①
٥	العرض المادي للأرض ①	أجمالي الأراضي بمختلف استعمالاتها في الدولة وهي ثابتة لا يمكن زيادتها.



السؤال الثالث:

أ) اقرأ المقال التالي جيداً ثم أجب عن الأسئلة التي تليه:

الوطن
AL WATAN
بصمة شامة بقميص
الوطن ولا الوطن

جاءت فنزويلا في المركز الأول عالمياً من حيث ارتفاع مستويات التضخم واحتلت مملكة البحرين المرتبة الـ ٧٨ عالمياً في مؤشر ارتفاع مستوى التضخم خلال عام ٢٠١٤، في حين جاءت بالمركز الثاني خليجياً ليسجل التضخم ٢,٨%، وفقاً لمؤشرات مجموعة البنك الدولي.

وكانت «موديز للتصنيف» الائتماني، توقعت في تقرير هبوط التضخم في البحرين إلى ٢% خلال العام الجاري، فيما تشير بيانات الجهاز المركزي للمعلومات، إلى أن الارتفاع في الرقم القياسي لأسعار المستهلك بلغ نهاية العام ٢٠١٤ نحو ٢,٥%، ويقاس مؤشر أسعار المستهلكين التغير السنوي للنسبة المئوية في الكلفة على المستهلك المتوسط، للحصول على سلة من السلع والخدمات التي يمكن أن تثبت أو تتغير على فترات زمنية محددة.

السبت ٨ أغسطس ٢٠١٥ - بتصرف.

١- تناول المقال مشكلة اقتصادية تعاني منها معظم دول العالم ، أذكرها.

① التضخم

٢- أذكر أحد أسباب هذه المشكلة.

① تحديد الأسعار النقدية أو زيادة الطلب الكلي أو زيادة تكاليف الموارد الإنتاجية (موادالخام)

٣- ما هو الأجراء المناسب الذي يمكن لمملكة البحرين أن تتحكم وتراقب مباشرة ضبط هذه المشكلة؟

① التحكم في تحديد أسعار السلع ص ٤٨

٤- ماذا يقاس مؤشر أسعار المستهلكين حسب ما جاء في المقال؟

① التغير السنوي للنسبة المئوية في الكلفة على المستهلك المتوسط

ب) قارن بين كل من السلع الاقتصادية والحرّة :

السلع الحرّة	السلع الاقتصادية
ذات نفع للإنسان يحصل عليها دون مقابل ① ١/٢	ذات نفع للإنسان يحصل عليها بمقابل ① ١/٢

انتهت الإجابة

أ عبد الحميد حسين محمد السعيد
المعلم الأول للمواد التجارية