

الإجابة النموذجية

$\frac{20}{20}$

السؤال الأول:

١/٦ (أ) اكتب التعريف أو المصطلح المناسب لما يأتي:

م	المصطلح	التعريف
١	الحاجة	هي رغبة الانسان في الحصول على السلع لاشباع حاجته ①
٢	البطالة المقنعة/ المستترة ①	أخطر أنواع البطالة خاصة بالنسبة للدول النامية والفقيرة.
٣	التضخم السعري ①	ارتفاع الاسعار خلال فترة زمنية قصيرة بحيث يقارن المستهلك حجم السلع والخدمات التي كان يشتريها سابقاً و التي يشتريها حالياً.
٤	الأجر الحقيقي	كمية السلع والخدمات التي يستطيع العامل شراءها من الأجر النقدي ①
٥	العرض الاقتصادي للأجر ①	مقدار ما يمكن زيادته من حجم الاراضي داخل الدولة من خلال الاستصلاح.

ب) قارن بين كل من ريع الندرة والريع التفاوتي:

الريع التفاوتي	ريع الندرة
الريع الناشئ عن اختلاف خصوبة الارض ①/٦	الريع الناشئ عن ندرة الارض ①/٦

ج) علل لما يلي:

١. من معالجات السياسة النقدية للتضخم أن ترفع البنوك المركزية نسبة الاحتياط القانوني للودائع المصرفية:

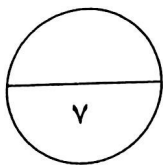
① خفض القدرة الائتمانية

٢. حدوث البطالة الهيكلية في المجتمع.

① التحولات الاقتصادية التي تحدث من حين لآخر.

أ عبد الحميد حسين محمد السعيد
المعلم الأول للمواد التجارية

السؤال الثاني:



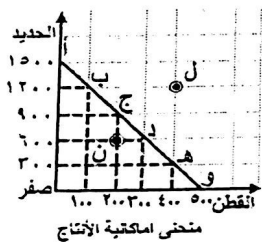
(أ) ضع دائرة حول رمز الإجابة الصحيحة فقط في ما يأتي:

١. يعتبر علم الاقتصاد من العلوم الإنسانية حيث قُسم إلى قسمين رئيسيين أحدهما:

- أ- الاقتصاد الجزئي
ب- الاقتصاد التطبيقي ①
ج- اقتصاديات الزراعة
د- الاقتصاد الكلي

٢. تمثل النقطة (ل) التي تقع فوق منحني امكانيات الإنتاج:

- أ- نقطة يصعب الوصول إليها ①
ب- تشغيل كامل لعناصر الإنتاج
ج- عناصر إنتاج معطلة
د- تكلفة الفرصة البديلة



٣- من إجراءات التحكم والمراقبة المباشرة لضبط التضخم:

- أ- التحكم في سعر السلع
ب- توزيع السلع النادرة وفق نظام الحصص
ج- تسهيل دخول السلع المستوردة
د- كل ما ذكر صحيح ①

٤- هي المبالغ المدفوعة لأصحاب عناصر الإنتاج نظير استعمالها في العمليات الإنتاجية:

- أ- الأجر
ب- الأجر الحقيقي
ج- الأجر النقدي
د- الأجر التعاقدى ①

٥- يحصل عنصر التنظيم على:

- أ- الفائدة
ب- الأجر
ج- الربح ①
د- الربح

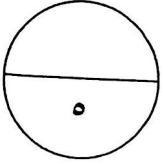
(ب) حصل احد العمال في مصنع السجاد على أجره الشهري وقدره ٤٠٠ دينار بحريني ، دفع منه ١٠٠

دينار ايجار الشقة الشهري واشترى لأسرته مواد غذائية بـ ١٥٠ دينار وتلفزيون بـ ١٠٠ دينار.

احسب أجره النقدي:

- ② ٤٠٠ دينار

أ عبد الحميد حسين محمد السعيد
المعلم الأول للمواد التجارية



السؤال الثالث:

اقرأ المقال التالي جيداً ثم أجب عن الأسئلة التي تليه:

إن التقرير الاحصائي الفصلي للربع الرابع من عام ٢٠١٤، يعكس بدقة المنجزات المتحققة خلال الفصل الأخير لعام ٢٠١٤م من استقرار معدل البطالة الفصلي عند ٣,٧%، وهذا مؤشر واضح على نجاح مملكة البحرين في توفير فرص العمل اللائق للمواطنين، وأن الفترة المذكورة شهدت جهوداً مكثفة لتطوير المشروعات القائمة، فضلاً عن الإعداد والتخطيط لمشروعات حيوية جديدة لعام ٢٠١٥، تستهدف الارتقاء بقدرات المملكة على توفير المزيد من فرص العمل اللائقة للمواطنين، إضافة الى وضع الأسس اللازمة لتطوير البنية التحتية لسوق العمل خلال السنوات القادمة، يتمثل أبرزها في مشروع المعايير المهنية ومشروع توظيف وتأهيل البحرينيين (٢)، ومشروع المرصد الوطني لسوق العمل ومشروع البحرية النوعية .

اخبار الخليج العدد ١٣٤٦٥ الثلاثاء ٣ / ٢ / ٢٠١٥م -

١- تناول المقال مشكلة اقتصادية تعاني منها معظم دول العالم، أذكرها.

البطالة $\frac{1}{4}$

٢- ما هو معدل استقرار البطالة في مملكة البحرين؟ وما هي صيغة معدل قياس البطالة.

صيغة المعادلة = عدد العاطلين عن العمل ÷ مجموع القوى العاملة × ١٠٠

$\frac{1}{4}$

$\frac{1}{4}$

$\frac{1}{4}$

$\frac{1}{4}$

٣- وضح المشكلات الاجتماعية التي سوف يتحملها المجتمع نتيجة هذه المشكلة. (يكتفى بمشكلتين)

ص ٣٨

• عدم الاستقرار الأسري $\frac{1}{4}$

• ظهور حاجات العوز الإجتماعي $\frac{1}{4}$

٤- أذكر شرط من الشروط الأساسية للبطالة. ص ٣٥

عدم توفر فرص عمل $\frac{1}{4}$

٥- تناول التقرير جهود مملكة البحرين في توفير المزيد من فرص العمل اللائقة للمواطنين - أذكره $\frac{1}{4}$

• الإعداد والتخطيط لمشروعات جديدة / مشروع المعايير المهنية / مشروع البحرية النوعية

• مشروع توظيف وتأهيل البحرينيين (٢) / مشروع المرصد الوطني لسوق العمل $\frac{1}{4}$

انتهت الإجابة

أ عبد الحميد حسين محمد السعيد
المعلم الأول للمواد التجارية