

نموذج الإجابة

مملكة البحرين

وزارة التربية والتعليم

إدارة الامتحانات / قسم الامتحانات

المضون

* مراعاة الخطأ المترتب في

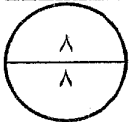
امتحان نهاية الفصل الدراسي الثاني للتعليم الثانوي للعام الدراسي ٢٠١٤/٢٠١٥ م السائل

المسار: توحيد المسارات

الزمن: ساعة ونصف

اسم المقرر: التأمين

رمز المقرر: تأم ٢١١



$$\Delta = \frac{1}{2} \times 16$$

السؤال الأول:

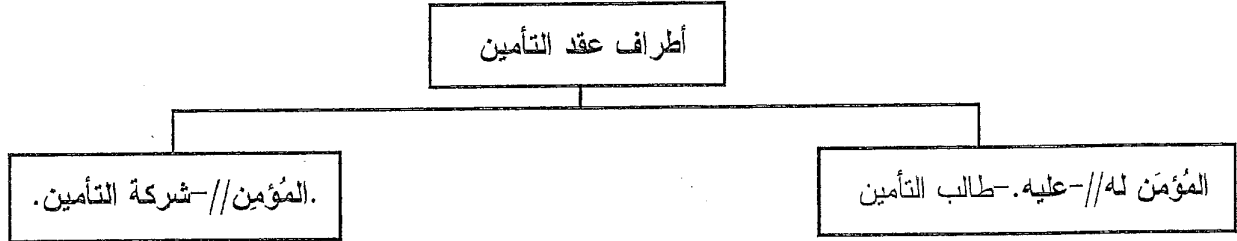
عرف هيمار التأمين بأنه عملية يحصل بمقتضاها أحد الطرفين على تعهد لصالحه أو صالح الغير بدفع أداء معين عند وقوع الخطر .

(أ) عرف الخطر : هو حادث مادي / بحت مشروع / ومحتمل الوقوع / من دون قصد من طرفي التعاقد وقابل للقياس

...../

.....

(ب) أذكر طرفي التعاقد :



(ج) أكتب أركان عقد التأمين وما يمثله في عقد التأمين :

م	الركن	ما يمثله في عقد التأمين
١	المحل /	الخطر .. /
٢	الرضا /	التوقيع أو ملء استمارة الطلب /
٣	السبب /	الحماية التأمينية /
٤	الهدف أو الغاية /	الحماية من الخسارة أو تحقيق الربح /

١١
١١

(أ) وضح المهمة الرئيسية للوظائف الآتية : $\frac{3}{7} = \frac{1}{2} \times 6$

م	الوظيفة	المهمة الرئيسية
١	وسيط التأمين	التوسط في مباشرة في عمليات التأمين بين طالب التأمين وشركة أو هيئة التأمين //
٢	الخبير الإكتواري	خبراء في حساب أقساط التأمين //
٣	مستشار التأمين	دراسة متطلبات التأمين للعملاء وتقديم المشورة والنصح //

(ب) بصفتك موظف اكتتاب في شركة التأمين، اختر وثيقة التأمين المناسبة للحالات الآتية: $\frac{5}{11} = \frac{1}{2} \times 11$

م	الحالة	وثيقة التأمين
١	قرض شخصي من بنك البحرين والكويت	التأمين المؤقت المتناقص //
٢	توفير نفقات وتكاليف العلاج والأدوية عند المرض	التأمين الصحي //
٣	شحن بضاعة من البحرين إلى دبي بحراً	تأمين أخطار نقل البضائع //
٤	التأمين على المعدات والآلات أثناء تنفيذ المشروعات الإنشائية	التأمين الهندسي //
٥	التأمين على جسم الطائرة والمسافرين وأمتعتهم	تأمين الطائرات والسفر //

(ج) ما هو الفرق بين كل من قسط التأمين ومبلغ التأمين: $\frac{3}{7} = \frac{1}{2} \times 6$

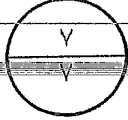
من حيث	قسط التأمين	مبلغ التأمين
الجهة الملزمة بالدفع	المؤمن له - / عليه طالب التأمين	شرك التأمين - / المؤمن
وقت استحقاق المبلغ	بداية التعاقد /	عند وقوع الخطر /
أثره على حسابات شركة التأمين	ربح - زيادة /	خسارة - نقص /

اقرأ النص الآتي ثم أجب عن الأسئلة التي تليه:

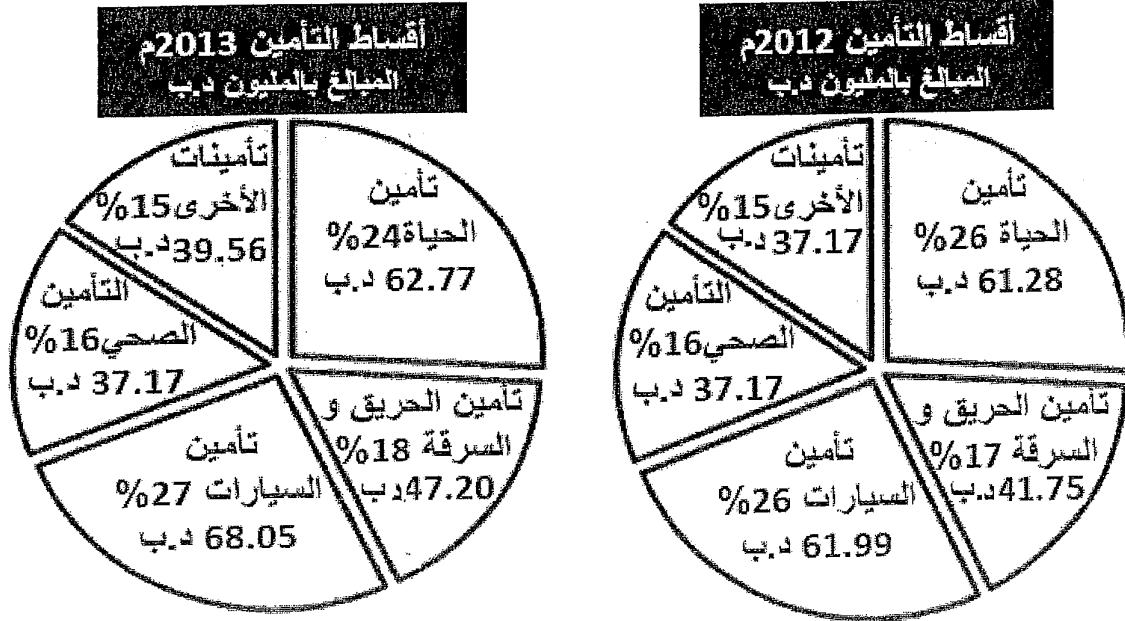
توقعت جمعية التأمين البحرينية نمو قطاع التأمين على الحياة في مملكة البحرين خلال ٢٠١٥م إلى ٢٧% مقارنة بـ ٢٤% في ٢٠١٤، حيث أن إحصاءات مصرف البحرين المركزي تشير إلى نمو قطاع التأمين على الحياة في الأعوام السابقة، مما يدل على زيادة الوعي بأهمية التأمين على الحياة إلى جانب توفير الجو الملائم من خلال السياسة الحكيمة التي تنتهجها الحكومة بتعزيز الاقتصاد المنفتح والمتعدد تحت إشراف مصرف البحرين المركزي الذي كون قاعدة اقتصادية منفتحة ومتنوعة، بالإضافة إلى الاهتمام الشديد بالبنية التحتية القانونية والتنظيمية، مما جعل البحرين تصبح مركزاً للخدمات التأمينية. وبمناسبة احتفال مملكة البحرين بحملة أسبوع التأمين ٢٠١٥ برعاية مصرف البحرين المركزي الذي سلط الضوء على المنتجات التأمينية مثل التأمين الصحي وتأمين الحياة من خلال مجسم شخصية «أمنة» التي لعبت دوراً رئيساً في توعية أفراد المجتمع على أهمية التأمين الصحي والتأمين على الحياة. ومن المرجح نمو أقساط التأمين في مملكة البحرين إلى حوالي ٢٨٠ مليون دينار خلال العام ٢٠١٥، ومع تطبيق قانون المرور الجديد من شأنه أن يحدث نقلة نوعية في مجال تخفيض معدل خسائر شركات التأمين بنسبة ٢٠% في السنة الأولى من تطبيق القانون الجديد، حيث سيؤدي انخفاض الحوادث المرورية إلى تحسين معدل خسائرها وبالتالي تخفيض الأقساط التأمينية.

صحيفة الوطن بتصرف الأحد ١٥ مارس ٢٠١٥

- ١- لعبت مجسم شخصية "أمنة" دوراً بارزاً في حملة أسبوع التأمين ٢٠١٥م - وضح ذلك .
.....توعية أفراد المجتمع بأهمية التأمين الصحي والحياة//.....
- ٢- ما هي مبررات وأسباب توقع جمعية التأمين البحرينية بنمو قطاع التأمين في مملكة البحرين.
•زيادة الوعي بأهمية التأمين //.....أو الاهتمام بالبنية التحتية القانونية والتنظيمية...
•السياسة الحكيمة بتعزيز الاقتصاد المنفتح والمتعدد//.....
- ٣- حدد نسبة النمو المتوقعة لقطاع التأمين ومقدار مبالغ الأقساط في مملكة البحرين خلال عام ٢٠١٥م.
.....نسبة النمو: ٢٧% //.....مبالغ الأقساط : ٢٨٠ مليون دينار بحريني //.....
- ٤- ما الأثر المتوقع من تطبيق قانون المرور الجديد على أقساط تأمين السيارات في مملكة البحرين.
..يحدث نقلة نوعية في تخفيض معدل خسائر شركات التأمين بنسبة ٢٠% نتيجة انخفاض الحوادث//
$$\frac{1}{2} \times 14 = 7$$



أعلن مصرف البحرين المركزي بأن قطاع التأمين في مملكة البحرين قد حقق نسبة نمو خلال عام ٢٠١٣م بلغت ٢,٨% مقارنة بعام ٢٠١٢م وفقا للرسم البياني الآتي:



١- أحسب إجمالي أقساط التأمين لعام ٢٠١٣م .

$$258.41 = 68.05 + 47.20 + 37.17 + 39.56 + 61.99 + 61.28$$

٢- قارن بين أقساط تأمين الحريق والسرقة في عامين ٢٠١٢م و ٢٠١٣م .

..... زيادة التأمين في ٢٠١٣ // أو العكس (أو) ٤٧.٢٠ - ٤١.٧٥ = ٥.٤٥ مليون د.ب.....

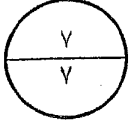
٣- حدد التأمين الذي حقق أكثر أقساط نسبة تأمين في عام ٢٠١٣م، وأقلها نسبة في عام ٢٠١٢م:

..... أكثر نسبة عام ٢٠١٣: تأمين السيارات // ... أقلها نسبة عام ٢٠١٢: التأمين الصحي // ...

تأمينات أخرى

٤- ماهي العوامل المؤثرة في حساب أقساط التأمين:

-/ درجة احتمال وقوع الخطر //
-/ مبلغ موضوع التأمين //
-/ مدة التأمين //
- * مقدار حجم التغطية * عائد الاستثمار
- * العوامل المساعدة والمؤثرة
- * معدل تكرار الحوادث * العوامل الخاصة



السؤال الخامس: التأمين للمركبات (مخبرات) مع

الطالب هو السؤال

أحسب قسط التأمين للمركبات الآتية مستعينا بالجدول أدناه :

١- قسط التأمين الشامل لدراجة نارية سعرها ٢٠٠٠ دينار، مع إضافة غطاء خطر الحريق والسرقه.

$$\dots\dots\dots (2\% \times 2000) + (1\% \times 2000) + 40 \dots\dots\dots$$

$$\dots\dots\dots = 100 \text{ دينار} + 40 + 20$$

$$\triangle = \frac{1}{2} \times 18$$

٢- تأمين المسؤولية المدنية لسيارة صالون تخص شركة البحرين التجارية سعة محركها CC1800 وتسع ٤ ركاب، إذا رغبت شركة البحرين التجارية إضافة خدمة نقل المساعدة على الطريق.

$$\dots\dots\dots = 5 + (3 \times 4) + 85 \dots\dots\dots$$

$$\dots\dots\dots = 5 + 12 + 85 \dots\dots\dots$$

لما سألنا ربحنا ربحنا
عمل كل ربحنا ربحنا
٦٥ = ٥ + ١٢ + ٨٥ دينار

تأمين الطرف الثالث (المسؤولية المدنية تجاه الغير)

نوع المركبة	سعة المحرك	القسط السنوي بالدينار	الملاحظات
الصالون الخاص	أقل من CC2000	٦٥ دينار	يضاف ٥٠ ديناراً للسيارة ذات البابين
	أكبر من CC2000	٨٥ دينار	
الصالون التجاري	أقل من CC2000	٨٥ دينار	يحسب عن كل مقعد ٣ دنانير
	أكبر من CC2000	١٠٠ دينار	
الباصات	أقل من CC2000	١٥٠ دينار	
	أكبر من CC2000	٢٥٠ دينار	
الشاحنات والمعدات	-----	٥٠٠ دينار	
الدراجة النارية	-----	٤٠ دينار	

- يضاف غطاء خطر الحريق والسرقه بنسبة ١% من قيمة المركبة.
- يضاف خطر أضرار مركبة المؤمن له بنسبة ٢% من قيمة المركبة (الشامل).
- يحسب مبلغ تحمل مقداره (١٥٠ ديناراً) للتأمين الشامل.
- خدمة توفير سيارة بديلة في أثناء التصليح ١٠ دنانير.
- خدمة نقل المساعدة على الطريق ٥ دنانير.

السؤال السادس: الغضائيا التأمينية:

١٠
١٠

في ٢ يناير ٢٠١٥م أمنت صيدلية الشفاء على مخازنها الكائن بمنطقة سلماباد ضد خطر الحريق والسرقة لدى شركات التأمين الآتية:

- شركة البحرين الوطنية للتأمين بمبلغ ٢٠٠٠٠ دينار
- سولديرتي للتأمين بمبلغ ٣٠٠٠٠ دينار

في أول أبريل ٢٠١٥م تعرضت مستودعات الشفاء لسرقة ٣٠% من قيمة البضاعة المخزنة.
المطلوب:

١- حسب مقدار الخسارة: $\frac{30000}{20000+30000} \times 30\% = \frac{30000}{50000} \times 30\% = 18\%$ دينار $\frac{18}{100} \times 150000 = 27000$

٢- حصة شركة البحرين الوطنية للتأمين في تعويض الخسارة:

$$\frac{6000}{150000} = \frac{6000}{150000} \times 4\% \text{ (أو) } \frac{6000}{150000} = \frac{150000 \times (50000 \div 20000)}{150000} \times 3\% = 3\%$$

٣- حصة شركة سولديرتي للتأمين في تعويض الخسارة:

$$\frac{9000}{150000} = \frac{9000}{150000} \times 6\% \text{ (أو) } \frac{9000}{150000} = \frac{150000 \times (50000 \div 30000)}{150000} \times 6\% = 6\%$$

٤- مبدأ التأمين المساند لرأيك: $\frac{9000}{150000} = 6\%$ دينار

ب) أمن فواز البالغ من العمر ٢٤ سنة على حياته ضد خطر الوفاة لدى شركة التكافل الدولية بمبلغ ٢٠٠٠٠ دينار، وبعد أسبوع من سداد القسط التأمين واستلامه اشعار التغطية المؤقت أصيب بنوبة قلبية توفي على أثرها فواز.

المطلوب: هل يستحق الورثة مبلغ التأمين، ولماذا؟

نعم... لأنه سدد قسط التأمين // أو استلم اشعار التغطية المؤقت أو أمن على حياته.

ج) تسبب صلاح داوود في حادث مروري أدى إلى تلفيات بسيارته الخاصة المؤمنة تأميناً شاملاً بمبلغ ٤٥٠٠ دينار لدى شركة تآزر للتأمين، وقد حكمت المحكمة له بمبلغ وقدره ٥٠٠٠ دينار، علماً بأن مبلغ التحمل ١٥٠ دينار.

المطلوب:

١- احسب المبلغ المستحق لصلاح داوود: $5000 - 150 = 4850$ دينار

٢- حدد المبدأ التأميني المؤيد لرأيك: الحلول // أو التعويض

انتهت الإجابة